

Ответы на вопросы — буквы, соответствующие организмам, обозначения периодов и эр, указывайте в клеточках слева от вопроса.

--	--	--

1. Расставьте буквы в соответствии с последовательностью появления этих организмов на Земле.

2. Какое из этих животных относится к динозаврам?

3. Какое из этих животных обитало в палеозое?


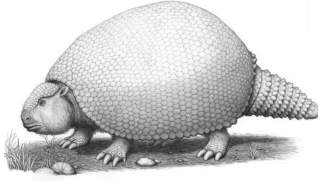


4. Какое из этих животных относится к млекопитающим?

5. Какое из этих животных было хищником?

Итог: _____

Подпись проверявшего _____



			
<p style="text-align: center;">А</p>	<p style="text-align: center;">Б</p>	<p style="text-align: center;">В</p>	<p style="text-align: center;">Г</p>





Ответы на вопросы — буквы, соответствующие организмам, обозначения периодов и эр, указывайте в клеточках слева от вопроса.

1. Кто из представленных организмов появился раньше? В каком периоде он жил? К какой эре относится этот период?
2. Какие организмы жили в одном периоде? В каком?
3. Кто из представленных организмов жил позже всех? В каком периоде он жил? К какой эре относится этот период?
4. Назовите организм Б _____
5. Назовите организм В _____

Итог: _____

Подпись проверявшего _____



			
<p style="text-align: center;">А</p>	<p style="text-align: center;">Б</p>	<p style="text-align: center;">В</p>	<p style="text-align: center;">Г</p>

Ответы на вопросы — буквы, соответствующие организмам, обозначения периодов и эр, указывайте в клеточках слева от вопроса.

--	--

1. Кто из указанных организмов позже всех появился на Земле? В какой эре он жил?

--	--	--

2. Какие организмы жили в одной эре? Какой?

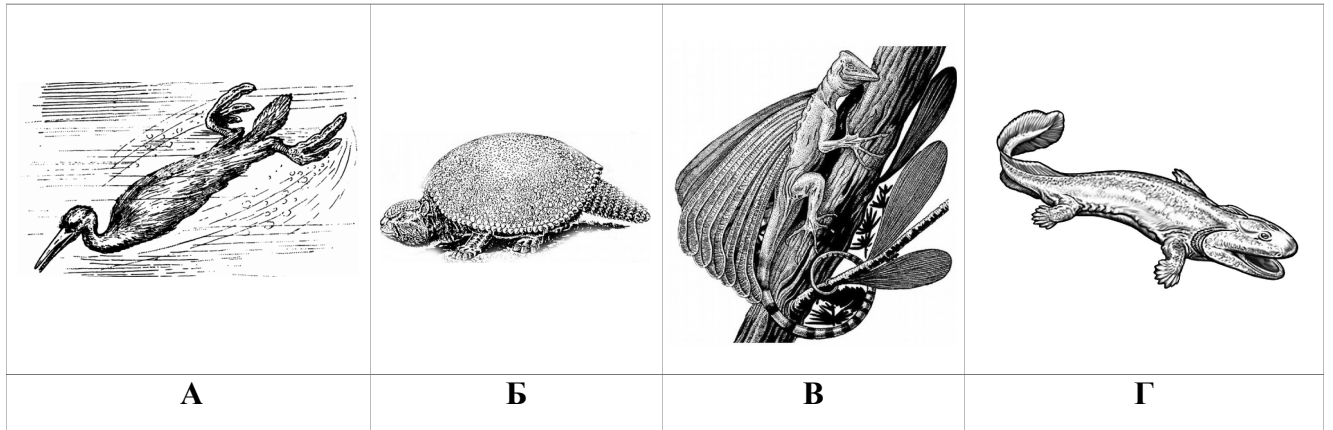
3. Назовите организм А _____

--	--

4. Кто из указанных организмов был растительноядным?

--

5. Укажите период, в котором жил организм Г



Ответы на вопросы — буквы, соответствующие организмам, обозначения периодов и эр, указывайте в клеточках слева от вопроса.

--	--	--	--

1. Расставьте буквы в соответствии с последовательностью появления этих организмов на Земле.

--	--	--

2. Какие из этих организмов жили в одной эре? В какой?

--	--


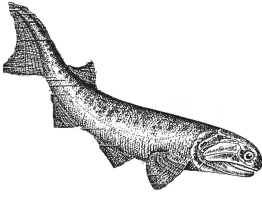


3. Какой из организмов являлся рептилией? В каком периоде он обитал?

Назовите его. _____

4. Какой из организмов являлся амфибией? В каком периоде он обитал?

5. Какой из организмов являлся млекопитающим? В каком периоде он обитал?
Назовите его. _____



			
А	Б	В	Г

Ответы на вопросы — буквы, соответствующие организмам, обозначения периодов, указывайте в клеточках слева от вопроса.

--	--	--	--

1. Укажите последовательность появления этих организмов на Земле.

--	--	--

2. Какие организмы жили в одной эре? В какой?

--

3. В каком периоде жил организм Г.? Назовите его. _____

--

4. В каком периоде жил организм А? Назовите его. _____

--	--

5. Укажите период, в котором жил организм В. К каким организмам он относится?

А. бесчелюстным

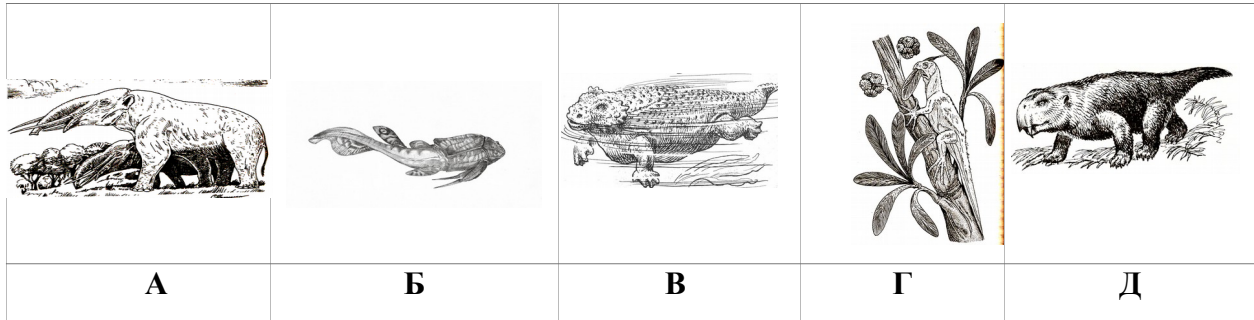
В. лучеперым рыбам

Б. лопастеперым рыбам

Г. двоякодышащим рыбам

Итог: _____

Подпись проверявшего _____



Ответы на вопросы — буквы, соответствующие организмам, обозначения периодов, указывайте в клеточках слева от вопроса.

--	--

1. Какой из этих организмов появился раньше всех? В каком периоде он жил? Назовите этот организм _____

--	--

2. Какой из этих организмов появился позже всех? В каком периоде он жил? Назовите организм _____

--	--	--

3. Какие из указанных организмов жили в одном периоде? В каком?

--

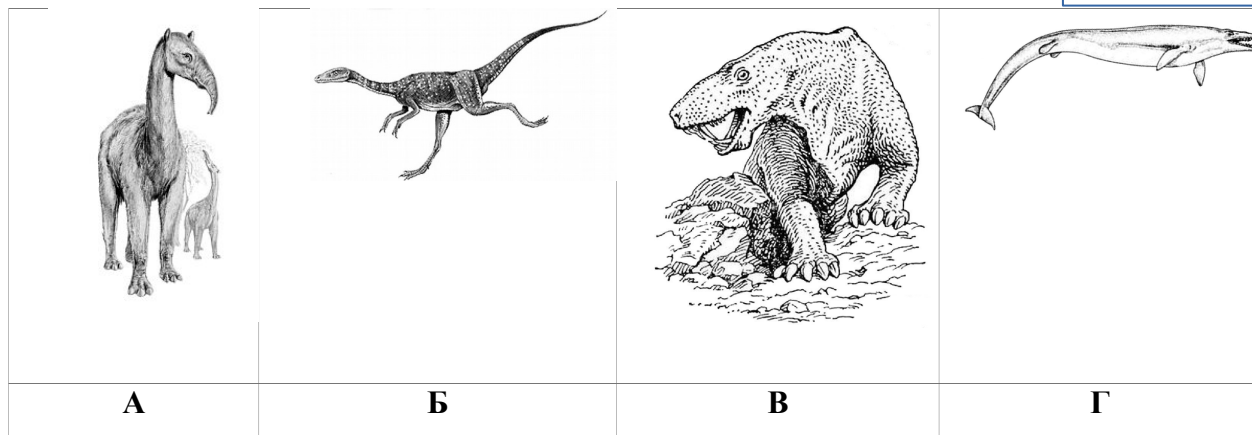
4. В каком периоде он обитал организм Г.? Назовите его _____

5. Назовите организм В _____

Назовите организм Д _____

Итог: _____

Подпись проверявшего _____



Ответы на вопросы — буквы, соответствующие организмам, обозначения периодов и эр, указывайте в клеточках слева от вопроса.

1. Расставьте буквы в соответствии с последовательностью появления этих организмов на Земле.

2. Какие организмы жили в одной эре? Какой?


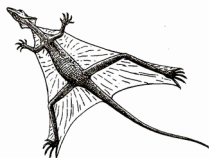


3. В каком периоде обитал организм Б? Назовите его _____

4. В каком периоде обитал организм В? Назовите его _____

5. В каком периоде обитал организм Г? Назовите его _____

Итог: _____

Подпись проверявшего _____

			
<p style="text-align: center;">А</p>	<p style="text-align: center;">Б</p>	<p style="text-align: center;">В</p>	<p style="text-align: center;">Г</p>

Ответы на вопросы — буквы, соответствующие организмам, обозначения периодов и эр, указывайте в клеточках слева от вопроса.

1. Расставьте буквы в соответствии с последовательностью появления этих организмов на Земле.

2. Какие организмы жили в одной эре? Какой?

3. В каком периоде обитал организм А? Назовите его _____

4. В каком периоде обитал организм Б? Назовите его _____

5. В каком периоде обитал организм Г? Назовите его _____

Итог: _____ **Подпись проверявшего** _____