













Задание 1.

Внимательно изучите карты, координаты и фотографии географических объектов. Установите соответствие между картами и фотографиями. Определите название каждого объекта. Ответьте на дополнительные вопросы. Заполните таблицу в листе ответов.

Карты и координаты объектов	Изображения объектов
<p>1</p>  <p>68° ю. ш. 65° з. д.</p>	<p>А</p> 
<p>2</p>  <p>50° с. ш. 1° в. д.</p>	<p>Б</p> 
<p>3</p>  <p>57° с. ш. 4° в. д.</p>	<p>В</p> 
<p>4</p>  <p>30° с. ш. 32° в. д.</p>	<p>Г</p> 
<p>5</p>  <p>3° ю. ш. 37° в. д.</p>	<p>Д</p> 

Дополнительные вопросы:

1. Как называется ближайший к объекту № 1 архипелаг?
2. Какой остров отделен от материка объектом № 2?
3. Сколько королевств расположены по берегам объекта № 3?
4. На каком языке говорят жители государства, в котором расположен объект № 4?
5. В каком государстве расположен объект № 5?

Задание 2.

Определите, о какой стране идет речь, если от столицы этой страны:

- около 1500 км на западо-северо-запад до самого большого озера на Земном шаре;
- около 1200 км на юго-запад до самого большого из трех морей, которые пересекал знаменитый русский путешественник XV в. Афанасий Никитин;
- около 300 км на юго-восток до реки, на берегах которой развивалась одна из трёх наиболее древних цивилизаций человечества (её начало относят к 3300 г. до нашей эры);

Назовите:

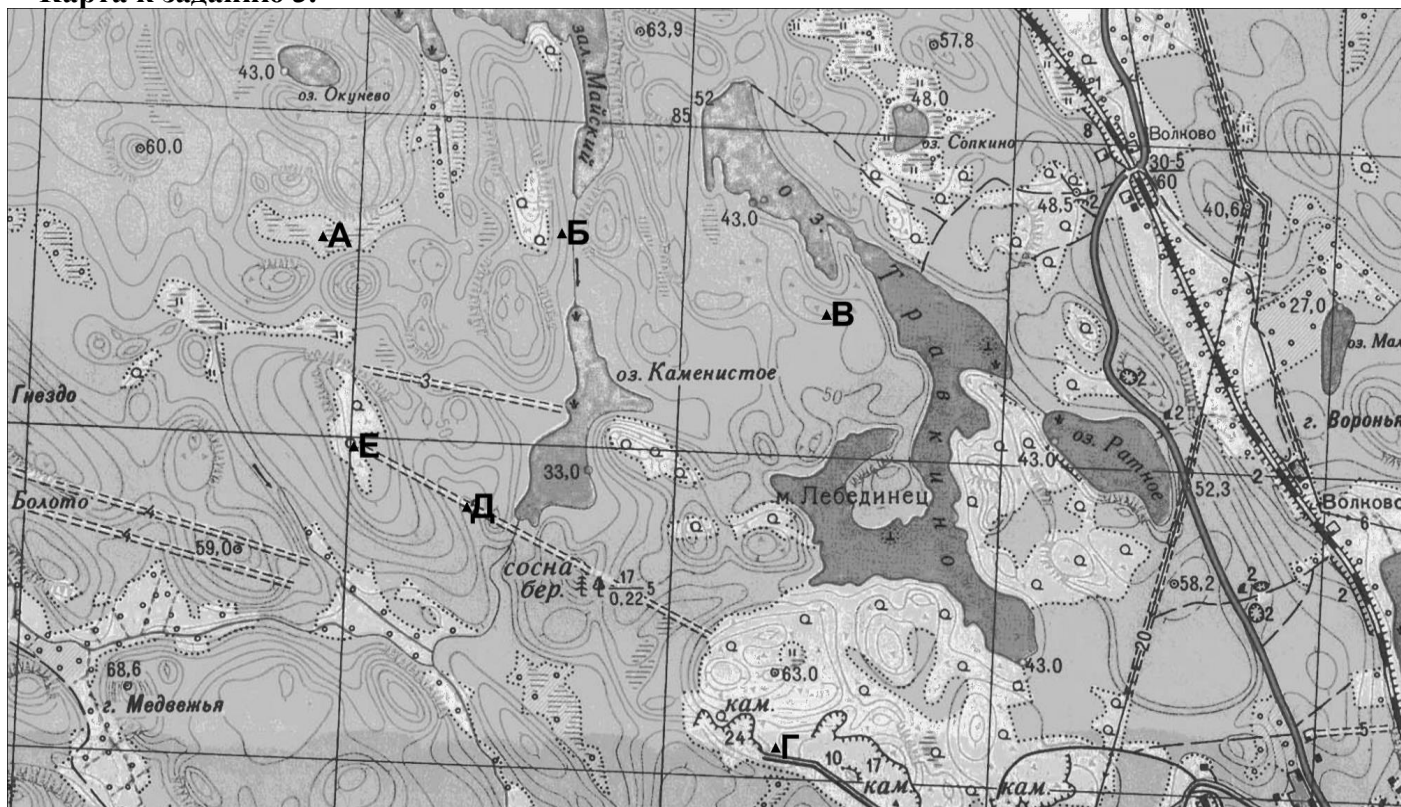
- 1) страну
- 2) столицу этой страны
- 3) озеро, упомянутое в пункте «а»
- 4) море, упомянутое в пункте «б»
- 5) реку, упомянутую в пункте «в»

Задание 3.

Перед вами фрагмент топографической карты территории, составленной в масштабе 1: 25 000 (сплошные горизонтали проведены через 5 м; темный фон соответствует лесу). На карте нанесены точки (они отмечены буквами). Используя свое знание карты, ответьте на вопросы:

- 1) Какую обувь необходимо иметь на ногах, чтобы комфортно чувствовать себя в точке А?
- 2) На каком берегу ручья находится точка Б?
- 3) определите кратчайшее расстояние от точки Б до озера Травкино.
- 4) Можно ли, стоя в точке Б, увидеть озеро Травкино?
- 5) Определите азимут от точки Б на точку В.
- 6) Определите относительную высоту точки В над уровнем озера Травкино (с точностью до половины сечения рельефа).
- 7) Объясните, с какой целью была построена автомобильная дорога вблизи точки Г.
- 8) В каком направлении будет идти спуск, если между точками Д и Е проложить лыжную трассу? Какой перепад высот между этими двумя точками (с точностью до половины сечения рельефа)?
- 9) Какие причины могли привести к появлению белого контура вокруг точки Е?
- 10) Если идти от точки Е на север, то какой ближайший географический объект будет затруднять передвижение?

Карта к заданию 3.



Задание 4

Перед Вами план городка Шипли в Западном Йоркшире, занесенного в список всемирного наследия ЮНЕСКО как уникальный ансамбль промышленной архитектуры Викторианской Англии. Молодой британский режиссер собирается снимать в Шипли фильм о борьбе рабочих за свои права. К несчастью, режиссер по неопытности запутался и обозначил описания сцен из фильма цифрами, а точки съемок на карте городка – буквами. Помогите ему сопоставить цифры и буквы. Заполните таблицу в листе ответов. Ответьте на дополнительные вопросы.

№ сцены	Описание
1	Хозяин завода мистер Таунсенд с семейством выходит из церкви. Они идут через парк в момент, когда тени самые длинные, солнце у актеров по правую руку. Слышен долгий гудок проходящего неподалеку паровоза.
2	Лидеры рабочего движения встречаются поздней ночью на перекрестке. Светит одинокий фонарь. Конноли и О'Брайан приходят с севера, Малыш Реми – с северо-востока, а Кэссиди – с юго-запада.
3	На мосту через реку Aire инспектор Коллоуэй и мистер Таунсенд обсуждают возможность бунта на фабрике. Вокруг парк, крупным планом тополя, шелестящие на ветру. Ветер юго-восточный.
4	Массовка: бастующие рабочие перекрывают железнодорожные пути. Камера расположена на мосту над путями. Крупным планом Малыш Реми и Конноли.
5	Инспектор Коллоуэй подкарауливает миссис Кэссиди в сквере перед школой. Он обещает помилование ее мужу в обмен на информацию. Миссис Кэссиди испугана. Она рассказывает инспектору о плане бунтовщиков.
6	Схватка О'Брайана и Коллоуэя над каналом. Место действия – крыша перехода между цехами. Камеру установить на мосту над каналом и еще две – в окнах цехов на обоих берегах.
7	Малыш Реми перекрывает шлюз. Камера снимает, как меняется уровень воды на порогах в реке.
8	Бунт подавлен. Кэссиди ждет своих друзей на перекрестке, он готов бежать из города. Он не сводит глаз с улицы, уходящей на запад. Часы на ратуше бьют полночь. С юга и севера приближаются отряды полиции.

Дополнительные вопросы:

1. Может ли в точке где будет сниматься сцена № 3 помешать съемкам дым от паровоза, стоящего на железнодорожной станции (№ 22 на плане)?
2. Найдите на карте самое узкое место между рекой и каналом, вычислите его длину на местности в метрах.
3. Известно, что уклон поверхности в самом узком месте между рекой и каналом составляет около 30°, а уровень воды в реке ниже уровня воды в канале. По плану режиссера в одной из сцен камера будет размещена на небольшом плоту на реке, а ее фокус должен находиться примерно на том же уровне что и вода в канале. Какой высоты штатив потребуется установить оператору на плоту?

Задание 5.

Решите тест.

1. Что такое атолл?
А) Коралловый остров в форме сплошного или разрывного кольца;
Б) Растение в лесах Мадагаскара;
В) Мелкий водоем, отделенный от моря узкой полоской песка или рифами;
Г) Группа соседствующих островов одинакового происхождения.
2. На каких островах обитает слоновая черепаха?
А) Маскаренских; Б) Галапагосских; В) Сейшельских; Г) Коморских
3. Какой язык является официальным в Бразилии?
А) Английский; Б) Французский; В) Испанский; Г) Португальский
4. Назовите страну, которая обладает меньшим числом островов, чем остальные
А) Финляндия; Б) Япония; В) Канада; Г) Мальдивы
5. Кто из этих путешественников умер в ходе экспедиции?
А) Николай Николаевич Миклухо-Маклай; Б) Фритъоф Нансен;
В) Фернан Магеллан; Г) Семён Иванович Дежнев.
6. В каком из пунктов не все озера располагаются в пределах одной части света?
А) Киву, Виктория, Танганьика, Ньяса;
Б) Боденское, Женевское, Байкал, Ханка;
В) Титикака, Эри, Гурон, Большое Медвежье;
Г) Эйр-Норт, Гэрднер, Фром, Аргайл.
7. Назовите остров, на котором растет баобаб
А) Мадагаскар; Б) Калимантан; В) Суматра; Г) Святой Елены
8. Какой из материков имеет телефонный код?
А) Северная Америка; Б) Евразия; В) Африка; Г) Антарктида
9. Как называется единственное на Земле течение, которое пересекает все меридианы?
10. В каком климатическом поясе сосредоточено больше всего аридных пустынь?
11. В результате действия какой силы пассаты в Южном полушарии дуют на северо-запад, а в Северном – на юго-запад?

Внимательно проверьте свою работу!

<http://anichkov.ru>