



Центр олимпиад Санкт-Петербурга СПб ГДТЮ

Российский государственный педагогический  
университет имени А.И. Герцена



Городская олимпиада школьников Санкт-Петербурга  
по географии для 6-8 классов (2018 год)

7 класс

ЛИСТ ОТВЕТОВ

Для жюри

1	2	3	4	5	6 (тест)	Подпись

Задание 1.

Вопрос	Правильный ответ и пояснения
1. Острова, отображенные на карте, находятся в море или в крупном озере? Поясните свой ответ.	
2. Определите максимальную абсолютную высоту острова Слитный (с точностью до половины интервала между горизонталями).	
3. Определите максимальную высоту острова Большой Черный над уровнем водоема (с точностью до метра).	
4. Определите площадь острова Котельный в квадратных километрах.	
5. Горные породы какого типа преобладают на острове Грядовый?	
6. Какая растительность преобладает на всех островах?	
7. По какой причине на островах Большой Черный и Грядовый есть участки с растительностью, которая отличается от преобладающей?	
8. Какие признаки деятельности человека показаны на карте на одном из островов? Назовите остров и признаки деятельности человека.	

Задание 2.

Номер описания	Фото (буква)	Флаг (цифра)	Название страны	Столица
1				
2				
3				
4				
5				

Общий признак, который объединяет эти страны: \_\_\_\_\_

\_\_\_\_\_

### Личные данные участника.

**ЗАПРЕЩАЕТСЯ ВПИСЫВАТЬ ЛИЧНЫЕ ДАННЫЕ В ЛЮБОЙ ДРУГОЙ ЧАСТИ ЛИСТА ОТВЕТОВ**

Фамилия \_\_\_\_\_ Имя \_\_\_\_\_ Отчество \_\_\_\_\_

Класс \_\_\_\_\_ Школа \_\_\_\_\_ Район \_\_\_\_\_




**КОД**

**КОД**

#### Задание 3.

Рисунок	Тип морского берега	Моря	Страны
1			
2			
3			
4			
5			

#### Задание 4.

Обозначение фронта на метеорологических картах			
Фронт			
Погода			
Основные облака			
Изменение температуры			
Номер фото			
Наименование точки на синоптической карте			

#### Задание 5.

Названия объектов и ответы на дополнительные вопросы	
1	
2	
3	
3А	
4	
5	
5А	
6	
6А	

#### Задание 6 (тест).

1	2	3	4					5	6	7	8	9	10
			А	Б	В	Г	Д						