



Центр олимпиад Санкт-Петербурга ГБНОУ «СПБ ГДТЮ»
Всероссийская олимпиада школьников по истории
Районный этап. 2019/2020 уч. год



Задания 7 класс

Ответы вносятся на лист ответов.

Желаем Вам удачи!

Задание № 1. Кто или что лишнее в ряду?

1 балл за каждый верный ответ; максимальный балл – 3 (ответы без пояснения не принимаются).

1.1. Даниил Романович, Дмитрий Иванович, Константин Всеволодович, Юрий Данилович, Ярослав Ярославич.

1.2. Дмитров, Новгород-Северский, Переяславль-Залесский, Ростов, Суздаль.

1.3. «Дюденева рать», «Куремсина рать», «Неврюева рать», «Федорчукова рать».

Задание № 2. Прочитайте отрывок из документа и ответьте на вопросы

1 балл за каждый верный ответ на вопрос; максимальный балл – 3.

Великий князь приказал срубить город с деревянными стенами, башнями, воротами, как настоящий город; а балки и бревна переметить все сверху донизу. Затем этот город был разобран, сложен на плоты и сплавлен вниз по Волге, вместе с воинскими людьми и крупной артиллерией. Когда он подошел <...>, он приказал возвести этот город и заполнить все [укрепления] землей; сам он возвратился на Москву, а город этот занял русскими людьми и артиллерией и назвал его Свияжском. <...>. Так <...> [местные жители] лишились свободного пути и постоянно должны были биться и сражаться с русскими. Великий князь вновь собрал великую силу и подошел опять <...>; вел подкопы и взорвал их. Так взял он город <...>.

Вопросы:

2.1. Определите событие, описанное в документе.

2.2. Укажите дату этого события.

2.3. Назовите великого князя, упомянутого в документе.

Задание № 3. Ознакомьтесь с картой и ответьте на вопросы

1 балл за каждый верный ответ на вопрос; максимальный балл – 3.

Карта	Вопросы
	<p>3.1. Укажите сегодняшнее название города, представленного на карте.</p> <p>3.2. Как традиционно именуют форму правления в этом городе, утвердившуюся в первой трети XII в.</p> <p>3.3. Какая часть этого города являлась эпицентром его политической жизни, местом массовых народных соборных и ожесточенных общественных дискуссий.</p>

Задание № 4. Да или нет? Укажите верно или неверно каждое из утверждений, представленных ниже

1 балл за каждый правильный ответ; максимальный балл – 9.

- 4.1. «Черная смерть» – неофициальное название грандиозной пандемии чумы, охватившей Европу и Ближний Восток в середине XIV в.
- 4.2. М. Лютер и Ж. Кальвин – троюродные братья.
- 4.3. В момент введения на Руси христианства в Византии правили сразу два императора – братья Василий II и Константин VIII.
- 4.4. Шедевр – высококачественное изделие, выполненное средневековым подмастерьем и дававшее ему звание мастера и право вступить в ремесленный цех.
- 4.5. «Империя, над которой никогда не заходит Солнце» – политический эпитет, использовавшийся для характеристики Священной Римской империи в XI – XIII вв.
- 4.6. Папа Урбан II так и не узнал об успешном завершении инициированного им Первого Крестового похода, поскольку умер раньше, чем весть о захвате Иерусалима крестоносцами достигла Рима.
- 4.7. «Хождение в Каноссу» – торжественный приезд Карла Великого к папе Льву III перед императорской коронацией 800 г.
- 4.8. К середине XII в. под фактическим контролем короля Англии находилось более половины территории Франции.
- 4.9. «На том стою, и не могу иначе» – так высказался король Франции Карл IX, когда в канун «Варфоломеевской ночи» давал согласие на репрессии против гугенотов.

Задание № 5. Рассмотрите картину и ответьте на вопросы

1 балл за каждый верный ответ; максимальный балл – 6.



Вопросы:

- 5.1.** Определите исторический эпизод, изображенный на картине.
5.2. Укажите годы правления «главного героя» данного эпизода, представленного в центре правой части картины.
5.3. Какое событие вскоре последовало за историческим эпизодом, изображенным на картине?
5.4. Напишите дату этого события.
5.5. Каковы последствия этого события?
5.6. Назовите главного противника того, кто представлен в центре правой части картины.

Задание № 6. Заполните пропуски в тексте

1 балл за каждый верный ответ; максимальный балл – 6.

Из сочинения С.Ф. Платонова

Соппротивление Руси озлобляло татар и заставляло их, в свою очередь, собирать против Руси все большие и большие силы. Они собрались под начальством царевича **(6.1.)** _____, нанесли русским войскам сильное поражение на **(6.2.)** _____ (приток Суры), разорили Рязань и Нижний Новгород в **(6.3.)** _____ г. За это москвичи и нижегородцы разорили мордовские места, в которых держались татары, на р. Суре. Борьба становилась открытой и ожесточенной. Тогда овладевший Ордой и затем провозгласивший себя ханом князь **(6.4.)** _____ отправил на Русь свое войско для наказания строптивых князей; Нижний Новгород был сожжен; пострадала Рязань; но **(6.5.)** _____, [князь] московский не пустил татар в свои земли и разбил их в рязанской области на р. **(6.6.)** _____ (1378 г.).

Задание № 7. О ком идет речь? Дайте краткие пояснения к характеристикам, представленным ниже

1 балл за каждого верно идентифицированного персонажа, 1 балл за верное указание времени его жизни (с точностью до половины столетия), 1 балл за перечисление его произведений; максимальный балл – 9.

Из письма преподобного Епифания Премудрого Кириллу Тверскому

Когда я был в Москве, жил там и преславный мудрец, <...> родом грек, <...> среди иконописцев отменный живописец, который собственной рукой расписал более сорока различных церквей каменных в разных городах <...>. Когда он все это рисовал или писал, никто не видел, чтобы он когда-либо смотрел на образцы, как делают это некоторые наши иконописцы, которые от непонятливости постоянно в них всматриваются, переводя взгляд оттуда – сюда, и не столько пишут красками, сколько смотрят на образцы. Он же, кажется, руками пишет изображение, а сам на ногах, в беспрестанной ходьбе, беседует с проходящими, а умом обдумывает высокое и мудрое, острыми же очами разумными разумную видит доброту. <...>

Из «Ответа недоверчивым и рассказ короткий о святых отцах живших в монастырях, которые в русской земле находятся» преподобного Иосифа Волоцкого

Прекрасные и знаменитые иконописцы Даниил и ученик его Андрей <...> только добродетель имели и любовь к воздержанной и к иноческой жизни, и как им Божественной благодати удостоиться, и только старались заботиться о Божественной любви так, чтобы никогда о земном не стараться, но всегда ум и мысль возносить к невещественному и Божественному свету, мудрое же око всегда устремлять от мирской жизни к изображенным образам Владыки Христа и Пречистой Его Матери и всех святых. Так и в праздник светлого Воскресения Христова на скамьях сидели и перед собой имели божественные и достойные высшего почитания иконы и, постоянно на них смотря, исполнялись Божественной радости и светлости. И не только в этот день так полагали, но и в прочие дни, когда не занимались живописательством.

Задание № 8. Установите соответствия (слева или справа одна позиция лишняя)

1 балл за каждое верное соответствие; максимальный балл – 18.

8.1.

Современники	
Европа	Русь
1) Карл III Простоватый	а) Василий I
2) Константин VII Багрянородный	б) Ярослав Всеволодович
3) П. Абеляр	в) Святослав II Ярославич
4) Фридрих II Гогенштауфен	г) Игорь Рюрикович
5) Вильгельм I Завоеватель	д) Святополк I
6) Я. Гус	е) Олег Вещий
	ж) Мстислав I

8.2.



Дата	Событие
1) 1301 г.	а) Переезд в Москву митрополита Петра
2) 1303 г.	б) Убийство в Орде тверского князя Александра Михайловича
3) 1325 г.	в) Присоединение Коломны к Москве
4) 1326 г.	г) Вокняжение во Владимире Дмитрия Ивановича Московского
5) 1339 г.	д) Смерть Симеона Гордого
6) 1353 г.	е) Вокняжение в Москве Юрия Даниловича
7) 1363 г.	


8.3.

Племя	Племенной центр
1) Северяне	а) Смоленск
2) Кривичи	б) Новгород
3) Меря	в) Искоростень
4) Поляне	г) Ярославль
5) Словене	д) Ростов
6) Древляне	е) Киев
	ж) Чернигов


Задание № 9. Вглядитесь в фотографии скульптурных портретов, представленные ниже, и ответьте на вопросы

Максимальный балл – 18.






4)



5)



6)

Вопросы:

9.1. Назовите имена и прозвища (фамилии) тех, кому принадлежат эти портреты (по 1 баллу за каждый верно подписанный портрет; в сумме – 6 баллов).

9.2. Укажите время жизни каждого из них (с точностью до десятилетия) (по 1 баллу за каждое верно указанное время жизни; в сумме – 6 баллов).

9.3. Из изображенных здесь личностей выберите тех, кто находится в близком родстве, и составьте генеалогическую схему (за полностью верную схему – 3 балла).

9.4. Кто из изображенных здесь личностей не правил в тогдашней столице Руси? (отметьте номер его портрета) (1 балл).

9.5. Кто из изображенных здесь личностей не являлся правящим монархом? (отметьте номер его портрета) (1 балл).

9.6. Кто из изображенных здесь личностей оказался последним представителем своей династии? (отметьте номер его портрета) (1 балл).

Задание № 10. Исторический кроссворд на знание терминов, имен и событий

1 балл за каждое верно отгаданное слово; максимальный балл – 25.

Вопросы:

По горизонтали

1) Выходец из литовских князей, долгое время княживший в Пскове и получивший известность благодаря успешной борьбе с Ливонским орденом.

4) Город – главная столица Монгольской империи.

5) Документ, издавшийся верховной властью на Руси в XIV – XVI вв. и представлявший собой освобождение того или иного землевладения от государственных налогов.

7) Представители золотоордынской администрации на Руси, производившие перепись ее населения и распределявшие затем податное бремя.

9) Общее собрание высшей монгольской знати в XIII в.

10) Низшая административно-территориальная единица в Древней Руси, место сбора дани с окрестного населения.

11) Город, чье упорное сопротивление остановило продвижение войск Батыя на северо-запад Руси.

18) Плодородный район в междуречье Клязьмы и Нерли, хозяйственное ядро Владимиро-Суздальской земли.

19) Представитель хана Золотой Орды, ответственный за сбор дани с населения Руси в XIII – XIV вв.

20) Укрепление из поваленных крест-накрест деревьев, активно применявшееся на Руси при обороне ее южных границ от кочевнических вторжений.

21) Фактический руководитель внешней политики Новгородской республики.

23) Младший дружинник на Руси, личный слуга князя, вооружавшийся за его счет и всецело зависевший от княжеской службы.

По вертикали

- 2) Русское наименование наиболее крупного организационно-тактического соединения монгольской армии XIII – XV вв.
- 3) Административно-территориальный округ на Руси в XVI – XVII вв.
- 6) Митрополит всея Руси, официально перенесший свою резиденцию из Владимира в Москву.
- 8) Тягловая повинность лошадьми и налог на содержание дорог на Руси в XIII – XVII вв.
- 10) Город, освобожденный Александром Невским накануне «Ледового побоища».
- 12) Фиксированный размер дани, взимаемый с населения домонгольской Руси.
- 13) Низшее административное звание на Руси XVI – XVII вв., помощник дьяка.
- 14) Глава аристократического рода в Монголии в XII – XIV вв.
- 15) Важнейший военно-торговый форпост Руси в Приазовье в конце X – конце XI в.
- 16) Родовое имя одного из византийских императоров, позднее перешедшее в название коронационного головного убора московских царей.
- 17) Хан Золотой Орды, политический союзник и партнер Ивана Калиты.
- 19) Город – столица Волжской Болгарии.
- 22) Страна, в которую бежал разбитый Батыем половецкий хан Котян.

Общий балл за все десять заданий – 100.

Внимательно проверьте свою работу!

После выполнения заданий сдайте лист ответов организаторам олимпиады.

Лист заданий Вы можете забрать с собой.